

призер

РОССИЙСКОЕ УЧЕБНО-МЕТОДИЧЕСКОЕ ЦЕНТРАЛЬНОЕ  
ОБЩЕОБРАЗОВАТЕЛЬНОЕ УЧЕБНО-МЕТОДИЧЕСКОЕ ЦЕНТРАЛЬНОЕ  
ОБЩЕОБРАЗОВАТЕЛЬНОЕ УЧЕБНО-МЕТОДИЧЕСКОЕ ЦЕНТРАЛЬНОЕ  
ОБЩЕОБРАЗОВАТЕЛЬНОЕ УЧЕБНО-МЕТОДИЧЕСКОЕ ЦЕНТРАЛЬНОЕ  
ОБЩЕОБРАЗОВАТЕЛЬНОЕ УЧЕБНО-МЕТОДИЧЕСКОЕ ЦЕНТРАЛЬНОЕ  
ОБЩЕОБРАЗОВАТЕЛЬНОЕ УЧЕБНО-МЕТОДИЧЕСКОЕ ЦЕНТРАЛЬНОЕ  
ОБЩЕОБРАЗОВАТЕЛЬНОЕ УЧЕБНО-МЕТОДИЧЕСКОЕ ЦЕНТРАЛЬНОЕ  
ОБЩЕОБРАЗОВАТЕЛЬНОЕ УЧЕБНО-МЕТОДИЧЕСКОЕ ЦЕНТРАЛЬНОЕ  
ОБЩЕОБРАЗОВАТЕЛЬНОЕ УЧЕБНО-МЕТОДИЧЕСКОЕ ЦЕНТРАЛЬНОЕ  
ОБЩЕОБРАЗОВАТЕЛЬНОЕ УЧЕБНО-МЕТОДИЧЕСКОЕ ЦЕНТРАЛЬНОЕ

11-3

30.09.2024  
20171, АДР, Черкесск район,  
с.п. Верхняя Балкария, ул. Шугуров, 8

Олимпиадная работа по ОБЖ

ученика 11 класса Алиханов Кюмюган

МКОУ СОШ №1 с.п.Верхняя Балкария

Председатель жюри: Циканова Р.А. [подпись]

Члены жюри: Атабиев М.И. [подпись]

Таукенов А.А. [подпись]

Цакоев А.И. [подпись]

ВСЕРОССИЙСКАЯ ОЛИМПИАДА ШКОЛЬНИКОВ  
ПО ОБЖ 2022–2023 уч. г. ШКОЛЬНЫЙ ЭТАП  
10–11 классы

11-3

66

Тестовые задания

Определите один правильный ответ.

За правильный ответ начисляется 2 балла. 0 баллов выставляется за неправильный ответ, а также если участником отмечено более одного ответа (в том числе правильный).

- 2
1. **Водитель –**  
а)  лицо, управляющее каким-либо транспортным средством  
б)  лицо, управляющее только автомобилем  
в)  лицо, управляющее только автомобилем и автобусом  
г)  лицо, управляющее только мотоциклом, автомобилем и автобусом
2. **В каком направлении нумеруются квартальные столбы, установленные на пересечении лесных просек для указания номеров стандартных лесных кварталов?**  
а)  с востока на юг  
б)  с юга на запад  
в)  с юга на север  
г)  с запада на восток
3. **Определите знамя, которое является государственной реликвией России.**

2

0

- а) 
- б) 
- в) 
- г) 

4. **Какое минимальное расстояние друг от друга необходимо соблюдать при переходе водоёма по льду группой?**  
а)  5–6 м  
б)  7–8 м  
в)  3–4 м  
г)  1–2 м

2



5. Обнаружена закладка из двух гранат. Установите минимальный радиус зоны эвакуации.

- а) 250 м  
б) 50 м  
в) 230 м  
г) 200 м



2

6. На изображении представлен

- а) Су-57  
б) Су-33  
в) Су-27 СК  
г) Су-35



2

7. К боевым ирритантам относят

- а) хлорпикрин  
б) дифосген  
в) хлорциан  
г) фосген

2

8. Какое воинское звание было у Ю.А. Гагарина во время первого в мире полёта в космос?

- а) старший лейтенант  
б) лейтенант  
в) майор  
г) капитан

2

9. Какое соотношение белков, жиров и углеводов соответственно является оптимальным для взрослых и детей старшего возраста?

- а) 1:1:3  
б) 1:1:4  
в) 1:4:1  
г) 4:1:1

2

10. Обзорный осмотр пострадавшего при оказании первой помощи выполняется с целью выявления признаков

- а) отравления  
б) ожога  
в) закрытой травмы  
г) наружного кровотечения

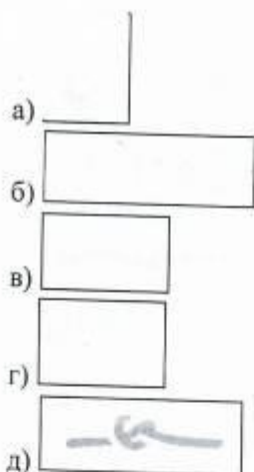
2

**Определите два правильных ответа.**

За каждый правильный ответ начисляется 2 балла. 0 баллов выставляется за неправильный ответ, а также если участником отмечены более двух ответов (в том числе правильные).

1. При движении организованных пеших колонн по проезжей части в тёмное время суток спереди и сзади колонны с левой стороны должны находиться сопровождающие с включёнными фонарями
- а) спереди – белого цвета
  - б) сзади – оранжевого цвета
  - в) сзади – красного цвета
  - г) сзади – жёлтого цвета
  - д) спереди – зелёного цвета

2. Какие узлы относятся к вспомогательным?



3. Бросать спасательный круг в сторону тонущего рекомендуется так, чтобы он упал
- а) справа от тонущего
  - б) слева от тонущего
  - в) сзади от тонущего
  - г) спереди от тонущего
  - д) на тонущего

4. Какие классы пиротехнических изделий бытового назначения можно применять только на улице?

2

- a) I
- б) II
- в) III
- г) IV
- д) V

5. К основным принципам противодействия экстремистской деятельности относятся

2

- а) гласность
- б) приоритет мер, направленных на ликвидацию последствий экстремистской деятельности
- в) приоритет обеспечения безопасности Российской Федерации
- г) конфиденциальность
- д) приоритет обеспечения безопасности гражданина Российской Федерации

6. Определите существующие военные округа при военно-административном делении РФ в настоящее время.






2

- а) Северный флот
- б) Северо-Кавказский военный округ
- в) Восточный военный округ
- г) Балтийский флот
- д) Сибирский военный округ

7. Определите по флагам страны – участницы НАТО.

г

2

- а) 
- б) 
- в) 
- г) 
- д) 

8. Запас Вооружённых Сил Российской Федерации состоит из

2

- а) мобилизационного людского резерва
- б) мобилизационного технического резерва
- в) мобилизационной складской базы
- г) мобилизационного технического ресурса
- д) мобилизационного людского ресурса

9. **Меры профилактики инфекционных заболеваний с трансмиссивным механизмом передачи инфекции:**

- а) регулярное мытьё рук  
б) использование медицинских трёхслойных одноразовых масок  
в) проведение дезинсекции  
г) проведение дезинфекции  
д) использование москитных сеток

10. **После вакцинации у человека формируется иммунитет:**

- а) пассивный  
б) активный  
в) приобретённый  
г) врождённый  
д) видовой

### Теоретические задания

#### Задание 1

1. Расположите предложенные фрагменты в верной последовательности, чтобы в итоге получилось определение.
- 1) или трамвайными путями, пешеходными или велосипедными дорожками
  - 2) движения проезжие части, отделённые друг от друга разделительной полосой (а при её отсутствии – дорожным ограждением),
  - 3) без пересечений в одном уровне с другими дорогами, железнодорожными
  - 4) дорогами, обозначенная специальным
  - 5) знаком и имеющая для каждого направления

Ответ: 45231

2. Запишите термин, определение которому Вы составили.

10 Ответ: Автомобильная

3. Выберите изображение знака, с помощью которого обозначается эта дорога.



Ответ: 2





**Задание 2**

Автомат Калашникова является индивидуальным оружием и предназначен для уничтожения живой силы и поражения огневых средств противника.

1. Определите, на каком изображении представлен АК-12.



Ответ: Б


2. Определите характеристики АК-12. Подчеркните верный ответ.

- Применяемый боеприпас – 5,45x39; 7,62x39; 5,56x45
- Ёмкость магазина – 30 патронов; 45 патронов; 20 патронов
- Режимы ведения огня – с отсечкой по 2, одиночный, автоматический;  
с отсечкой по 3, автоматический; одиночный, автоматический
- Наличие штатного глушителя – есть; нет
- Возможность установки штык-ножа – есть; нет
- Возможность оперативной замены ствола – есть; нет

**Задание 3**

В Вооружённых Силах Российской Федерации устанавливаются составы военнослужащих и воинские звания.

Укажите наименования воинских званий в соответствии со знаками различия на погонах лейтенант, старший лейтенант, майор, полковник, генерал-майор, генерал-лейтенант, генерал-полковник, генерал армии.



#### Задание 4

Для инфекционных заболеваний характерна цикличность течения.

1. Установите соответствие между наименованием периода инфекционного заболевания и его характеристикой.

| Период инфекционного заболевания              | Характеристика периода инфекционного заболевания   |
|---|--|
| Начальный (продромальный)                     | Период проявления общих признаков заболевания. В этот период ещё нет чётко выраженных признаков конкретного заболевания                                    |
| Угасания болезни (реконвалесценции)           | Период, когда постепенно исчезают основные признаки болезни, начинается выздоровление организма, постепенно восстанавливаются нарушенные функции организма |
| Инкубационный                                 | Период максимального проявления наиболее существенных и специфических признаков конкретного заболевания  |
| Основных проявлений болезни (разгара болезни) | Промежуток времени от момента заражения до появления первых признаков болезни  |

10

2. Какое из перечисленных заболеваний передаётся воздушно-капельным путём?

- а) гепатит А
- б) гепатит В
- в) корь
- г) малярия

Ответ: Корь

Максимальная оценка за работу – 80 баллов.

Всего 66 баллов